

Name: _____

Vorname: _____

Klasse: _____

Die Aufgabenblätter sind Bestandteil der Prüfungsarbeit und müssen mit Ihrem Namen versehen werden.

Schriftliche Prüfung

Fach: Erdkunde

Dauer: 120 Minuten

Name: _____ Vorname: _____

**Sie müssen zwischen zwei Aufgabengruppen wählen.
Damit Ihnen die Entscheidung leichter fällt, finden Sie hier eine
Themenübersicht.**

Aufgabengruppe A

Aufgabe Thema

1, 2, 3.....Grundwissen Deutschland

4, 5, 6.....Erdbeben

7, 8.....Klimazonen

9, 10.....Saarland

Aufgabengruppe B

Aufgabe Thema

1, 2, 3.....Grundwissen Deutschland

4, 5.....Vulkanismus und Erdbeben

6, 7, 8.....USA

9, 10.....Saarland

Lesen Sie nun beide Aufgabengruppen gründlich durch, entscheiden Sie sich für eine und legen Sie die andere weg.

Schriftliche Prüfung

Fach: Erdkunde — Aufgabengruppe A

Dauer: 120 Minuten

Name: _____ Vorname: _____

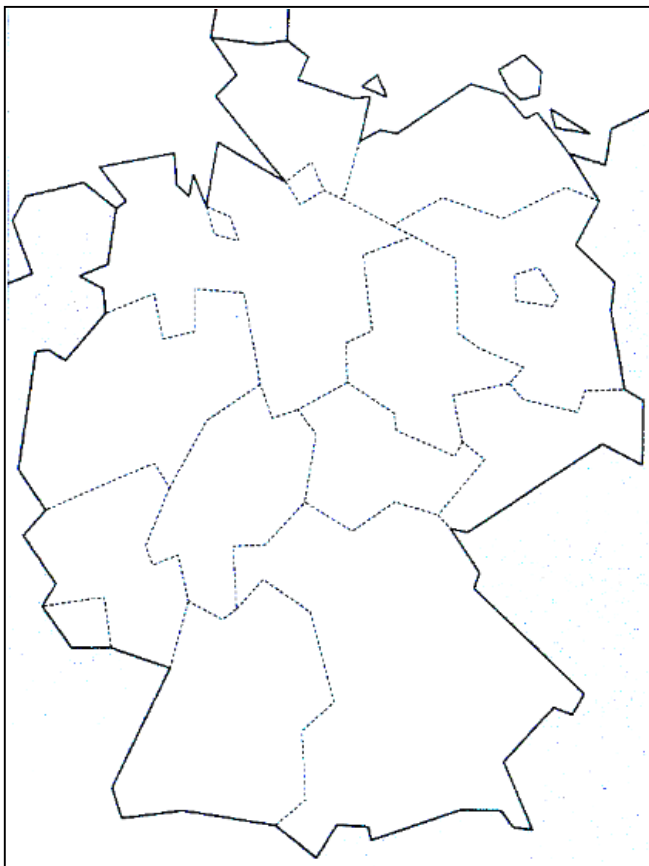
Aufgabengruppe A

Grundwissen Deutschland

Aufgabe 1

5 Punkte

Tragen Sie mindestens 10 der 16 Bundesländer in die nebenstehende Karte ein. Verwenden Sie dabei die Zahlen, die in der Tabelle neben den Bundesländern stehen.



Zahl	Bundesland
1	Baden-Württemberg
2	Bayern
3	Berlin
4	Brandenburg
5	Bremen
6	Hamburg
7	Hessen
8	Mecklenburg-Vorpommern
9	Niedersachsen
10	Nordrhein-Westfalen
11	Rheinland-Pfalz
12	Saarland
13	Sachsen
14	Sachsen-Anhalt
15	Schleswig-Holstein
16	Thüringen

Schriftliche Prüfung

Fach: Erdkunde — Aufgabengruppe A

Dauer: 120 Minuten

Name: _____ Vorname: _____

Aufgabe 2

3 Punkte

Auf den Fotos sind die drei deutschen Großlandschaften zu sehen.

Wie heißen sie?



Aufgabe 3

6 Punkte

a) Nennen Sie drei deutsche Mittelgebirge.

1. _____

2. _____

3. _____

b) Nennen Sie zwei Meere, an die Deutschland grenzt.

1. _____

2. _____

c) Wie heißt der höchste Berg Deutschlands?

Schriftliche Prüfung

Fach: Erdkunde — Aufgabengruppe A

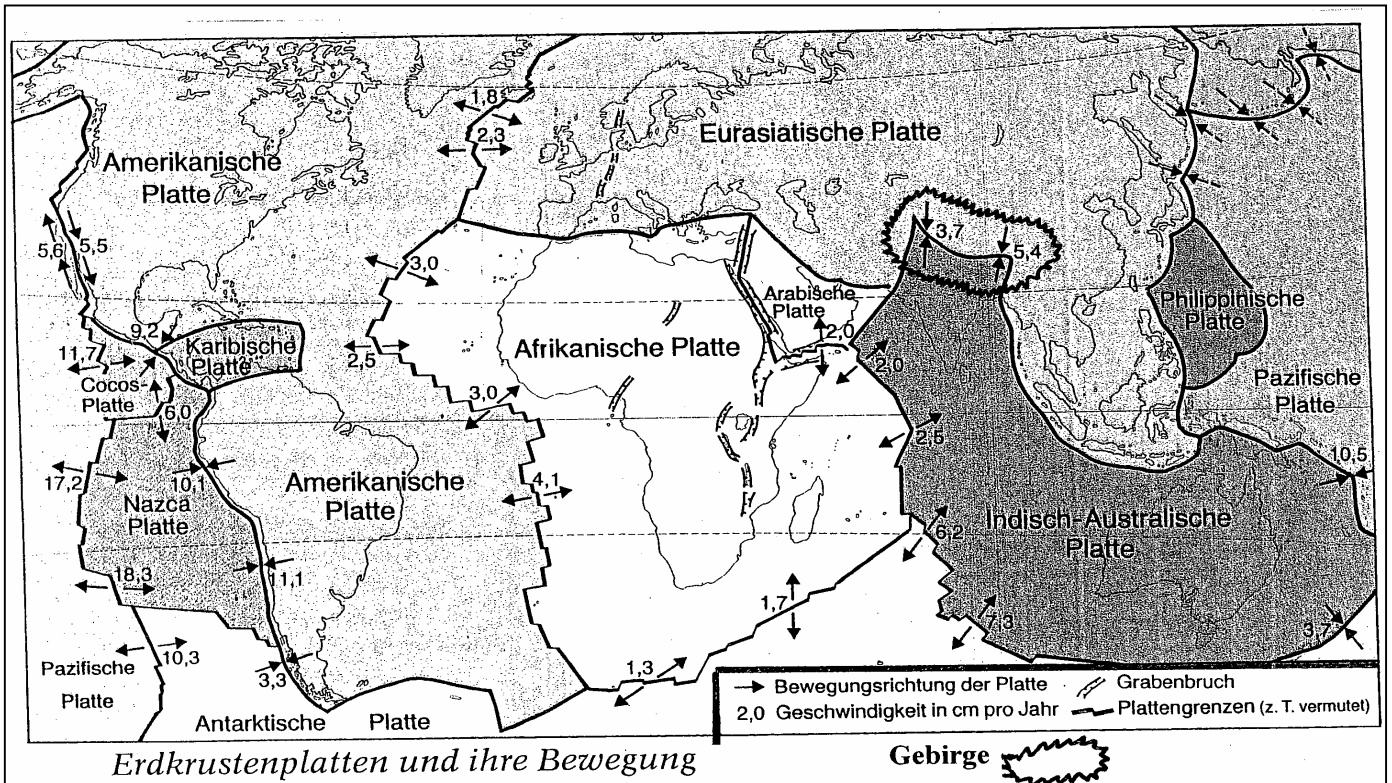
Dauer: 120 Minuten

Name: _____ Vorname: _____

Erdbeben

Aufgabe 4

5 Punkte



a) Nennen Sie mit Hilfe der Karte „Erdkrustenplatten und ihre Bewegung“ je ein Beispiel für 2 auseinanderdriftende Platten:

1. _____

2. _____

2 aufeinanderprallende Platten:

1. _____

2. _____

2 aneinander vorbeidriftende Platten:

1. _____

2. _____

Schriftliche Prüfung

Fach: Erdkunde — Aufgabengruppe A

Dauer: 120 Minuten

Name: _____ Vorname: _____

b) Erklären Sie mit Hilfe der Karte, warum es im Himalaja-Gebirge Erdbeben gibt.

c) Im Bereich welcher Platten finden die größten Bewegungen statt?

Aufgabe 5

3,5 Punkte

Füllen Sie den Lückentext mit Hilfe der unten angegebenen Fachbegriffe aus.

Seismographen	kreisförmig	Erdbebenwellen	Nachbeben
Erdbebenherd	Erdkruste	Seismogramm	

Erdbeben sind ruckartige Bewegungen der _____. Sie gehen von einem _____ aus, der bis zu 50 km tief unter der Erdoberfläche liegt. Die _____ breiten sich _____ aus. Auf ein schweres Hauptbeben folgen zahlreiche _____. Mit hochempfindlichen Messgeräten, den _____, werden die Wellen aufgezeichnet. Mit diesem _____ können die Wissenschaftler die Stärke eines Bebens genau bestimmen.

Aufgabe 6

3 Punkte

Nennen Sie drei Maßnahmen zum Schutz vor der Erdbebengefahr.

1. _____

2. _____

3. _____

Schriftliche Prüfung

Fach: Erdkunde — Aufgabengruppe A

Dauer: 120 Minuten

Name: _____ Vorname: _____

Klimazonen**Aufgabe 7**

5 Punkte

Welche Klimazonen sind gemeint?

a) Am Tag fast 60° C heiß, nachts kann es frieren.

b) In dieser Zone leben wir in Mitteleuropa.

c) Die mittlere Jahrestemperatur liegt bei –20° C.

d) heiße, trockene Sommer; milde, feuchte Winter

e) 7–9 Monate Regenzeit

Aufgabe 8

3 Punkte

Ordnen Sie die drei Klimazonen mit einem Pfeil den entsprechenden Breitengraden zu.

a) Die tropische Zone liegt zwischen

23,5° und 66,5°.

b) Die polare Zone liegt zwischen

0° und 23,5°.

c) Die gemäßigste Zone liegt zwischen

90° und 66,5°.

Schriftliche Prüfung

Fach: Erdkunde — Aufgabengruppe A

Dauer: 120 Minuten

Name: _____ Vorname: _____

Saarland

Aufgabe 9

4 Punkte



Beantworten Sie mit Hilfe der Karte „Zentrale Orte im Saarland“ die folgenden Fragen:

a) Nennen Sie das Oberzentrum im Saarland. _____

b) Nennen Sie vier Mittelzentren im Saarland.

1. _____

3. _____

2. _____

4. _____

Schriftliche Prüfung

Fach: Erdkunde — Aufgabengruppe A

Dauer: 120 Minuten

Name: _____ Vorname: _____

c) Nennen Sie drei Unterzentren im nördlichen Saarland.

1. _____ 3. _____
2. _____

Aufgabe 10

2,5 Punkte

Ordnen Sie folgende Städte oder Landschaften entweder dem Verdichtungsraum Saar (VR) oder dem ländlichen Raum Saar (LR) zu.

Bitte kreuzen Sie dazu die jeweilige Spalte an.

	VR	LR
Völklingen	<input type="checkbox"/>	<input type="checkbox"/>
Bliesgau	<input type="checkbox"/>	<input type="checkbox"/>
Saarbrücken	<input type="checkbox"/>	<input type="checkbox"/>
St. Wendel	<input type="checkbox"/>	<input type="checkbox"/>
Nördliches Saarland	<input type="checkbox"/>	<input type="checkbox"/>

Schriftliche Prüfung

Fach: Erdkunde — Aufgabengruppe B

Dauer: 120 Minuten

Name: _____ Vorname: _____

Aufgabengruppe B

Grundwissen Deutschland

Aufgabe 1

2 Punkte

- a) Wie heißt die Hauptstadt Deutschlands und an welchem Fluss liegt sie?

Name der Stadt: _____

Name des Flusses: _____

- b) An welchen Flüssen liegen Hamburg und München?

Hamburg liegt an der: _____

München liegt an der: _____

Aufgabe 2

5 Punkte

Nennen Sie 7 der „alten“ und 3 der „neuen“ Bundesländer Deutschlands.

1. _____ 6. _____

2. _____ 7. _____

3. _____ 8. _____

4. _____ 9. _____

5. _____ 10. _____

Schriftliche Prüfung

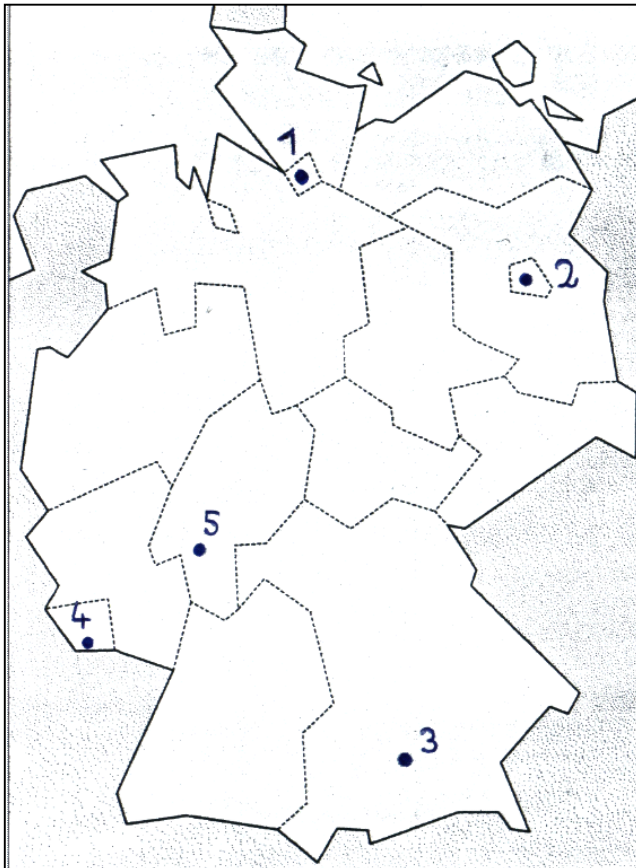
Fach: Erdkunde — Aufgabengruppe B

Dauer: 120 Minuten

Name: _____ Vorname: _____

Aufgabe 3

3 Punkte



In der Karte sind 5 deutsche Großstädte mit Punkten und Zahlen markiert.

Benennen Sie mindestens drei der so abgebildeten Städte mit Namen und ordnen sie diese den Zahlen zu.

Zahl	Name der Stadt
1	
2	
3	
4	
5	

Schriftliche Prüfung

Fach: Erdkunde — Aufgabengruppe B

Dauer: 120 Minuten

Name: _____ Vorname: _____

Vulkanismus und Erdbeben**Aufgabe 4**

3 Punkte

Ordnen Sie die folgenden Vulkane den jeweiligen Ländern zu. Verwenden Sie dazu die angegebenen Lösungswörter.

Lösungswörter: Japan, Tansania, Italien, USA, Ecuador

	Vulkan	Land
a)	Ätna	
b)	Kilimanjaro	
c)	Fujiyama	
d)	Mt. St. Helens	
e)	Cotopaxi	
f)	Hawaii-Vulkane (Kilauea, Mauna Loa)	

Schriftliche Prüfung

Fach: Erdkunde — Aufgabengruppe B

Dauer: 120 Minuten

Name: _____ Vorname: _____

Aufgabe 5

5 Punkte

Ort	Jahr	Land	Stärke	Opferzahlen/Tote
Shansi	1556	China	8,0	ca. 830.000
Lissabon	1755	Portugal	7,8	ca. 70.000
San Francisco	1906	USA	7,8	ca. 3.000
Messina	1908	Italien	7,5	ca. 100.000
Tokio	1923	Japan	8,3	ca. 140.000
Tangshan	1976	China	7,8	ca. 240.000
Mexico City	1985	Mexico	8,1	ca. 30.000
Kobe	1995	Japan	8,1	ca. 5.500
Türkei	1999	Türkei	7,8	ca. 24.000

Beantworten Sie mit Hilfe der Tabelle „Historische Erdbeben“ folgende Fragen.

- a) Welches Beben hatte die größte gemessene Stärke?

Ort: _____ Jahr: _____

- b) Welches Beben forderte die meisten Opfer?

Ort: _____ Opfer: _____

- c) Welcher Kontinent ist besonders stark von Erdbeben großer Stärke betroffen?

Kontinent: _____

- d) Nennen Sie ein in der Tabelle aufgeführtes europäisches Erdbebenland.

Land: _____

- e) Mit welcher Messkala wird die Stärke eines Erdbebens gemessen?

Name der Messkala: _____

Schriftliche Prüfung

Fach: Erdkunde — Aufgabengruppe B

Dauer: 120 Minuten

Name: _____ Vorname: _____

USA

Aufgabe 6

6 Punkte

a) Im Nordosten der USA befindet sich der Manufacturing Belt.

Welche beiden Rohstoffe begünstigten in der Vergangenheit die Entwicklung dieses bedeutenden Industriegebietes?

1. _____ 2. _____

b) Nachdem der Manufacturing Belt an Bedeutung verloren hatte, wanderten viele Industrieunternehmen aus dem Nordosten der USA in Gebiete mit günstigeren Produktionsbedingungen ab.

Nennen Sie zwei neu entstandene Industrieregionen und zeichnen Sie diese in die Karte ein.

1. _____


2. _____



USA mit Manufacturing Belt

Aufgabe 7

4 Punkte



Die Mährescherkolonne in Oklahoma (siehe Foto) ist typisch für die moderne Farmwirtschaft der USA.

Nennen Sie 4 Merkmale der modernen Farmwirtschaft.

1. _____

2. _____

3. _____

4. _____

Schriftliche Prüfung

Fach: Erdkunde — Aufgabengruppe B

Dauer: 120 Minuten

Name: _____ Vorname: _____

Aufgabe 8

6 Punkte

- a) Die USA werden häufig von tropischen und außertropischen Stürmen heimgesucht, die große Schäden anrichten können.

Nennen Sie je einen tropischen und einen außertropischen Sturm.

tropischer Sturm:

außertropischer Sturm:

- b) Nennen Sie zwei Flüsse in den USA.

1. _____

2. _____

- c) Nennen Sie zwei Großstädte der USA.

1. _____

2. _____

Saarland

Aufgabe 9

2 Punkte

Nennen Sie vier touristische Ausflugsziele im Saarland, die der Naherholung dienen.

1. _____

3. _____

2. _____

4. _____

Schriftliche Prüfung

Fach: Erdkunde — Aufgabengruppe B

Dauer: 120 Minuten

Name: _____ Vorname: _____

Aufgabe 10

4 Punkte

a) Nennen Sie die beiden Staaten, die an das Saarland angrenzen.

1. _____ 2. _____

b) Nennen Sie zwei Nebenflüsse der Saar.

1. _____ 2. _____

c) Nennen Sie vier Städte, die im Verdichtungsraum Saar liegen.

1. _____ 3. _____

2. _____ 4. _____